



Základná škola s materskou školou Vavrečka 204



JA Slovensko
Člen skupiny Junior Achievement Worldwide

JA JA A PENIAZE

1.A

Príjmy a výdavky



$$\frac{1}{8}$$

$$\frac{1}{7}$$



St

1.	2.	3.	4.

0000 4

...no keist...
...u maht...
...Nõu...
...ak...
...SUB...
...u...
...re...



10 €

lohu podka vto

€



Zaps, a
mncan

Mathematical exercises on a grid:

- 7 + 7 = 14
- 8 + 8 = 16
- 10 + 10 = 20

Handwritten red text: $+7+7=7$

Mathematical exercise for KAROL:

5 € + 2 € = 7 €

KAROL

Mathematical exercise for JAKUB:


5 € + 2 € + 1 € + 1 € + 1 € = 10 €

JAKUB


mnoz si modelni penazi.

$$\underline{1+1+1=7}$$

$$\underline{5+2+2=9}$$



$$\underline{2+1}$$







€			€	
€	5		€	
€	9		€	2
€	8		€	6
	=		€	1
			€	3



€			€		
€			€		
€			€		
€			€	7	
€			€	9	
€			€		





3 €

=



3 €



1 €

<



6 €



6 €

>



5 €



2 €

<



4 €



4 €

>



2 €



5 €

>



1 €


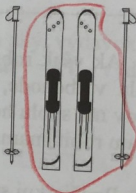

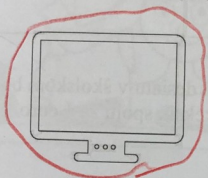
Koľko to stojí?

Každá vec, ktorú kupujeme v obchode, má svoju CENU. To, čo si kúpime v obchode, voláme TOVAR.



Odhadni, ktorá z dvoch vecí na susedných obrázkoch, má vyššiu cenu. Za ktorú zaplatíme v obchode viac? Medzi obrázky doplň správne znamienko pre **viac** alebo pre **menej**.


> (viac) alebo < (menej)



Porozprávaj sa v skupine so spolužiakmi, v akom obchode sa dajú tieto veci kúpiť. Odhadni, ktoré dve z uvedených vecí budú najdrahšie. Zakrúžkuj ich červenou farbou. Nájdi najlacnejšiu vec a zakrúžkuj ju zelenou farbou.

TÝŽDEŇ

- PONDELOK
- UTOROK
- STREDA
- ŠTVRTOK
- PIATOK
- SOBOTA
- NEDEĽA



ry

